
 Rezolvă cerințele următoare!

1. Se dau numerele:


-  A. 24 503 B. 6 105 C. 18 440 D. 9 475

Încercuiește litera corespunzătoare numărului care are cifra sutelor cu 4 mai mică decât cifra miilor.

Nu se completează de către elev
COD

1.

2. Încercuiește litera corespunzătoare celui mai mic număr natural.

-  A. 621 530 B. 88 137 C. 808 130 D. 94 851

Nu se completează de către elev
COD

2.

3. Scrie cel mai mare număr natural format din toate cifrele de mai jos, folosite o singură dată.

4 0 8 3

 _____

Nu se completează de către elev
COD

3.

4.

Rotunjește numărul 4 513 la cea mai apropiată zece, sută și mie, după modelul de mai jos.

Model:

	zece	sută	mie
8 356	8 360	8 400	8 000

	zece	sută	mie
4 513			

Nu se completează de către elev
COD

4.

5. Cosmin are 30 baloane pe care le împarte în mod egal cu 5 prietenii ai săi.

Încercuiește litera corespunzătoare operației prin care Cosmin află câte baloane dăruiește fiecărui prieten.

- A. $30 - 5$
 B. $30 : 5$
 C. $30 : 6$
 D. $30 + 5$

Nu se completează de către elev
COD

5.

6. George are cartonașe pe care sunt scrise operații cu numere naturale.

Realizează corespondența dintre operația matematică și rezultatul corespunzător din dreapta.

800×10

$800 : 10$

$8\ 000 \times 10$

$8\ 000 : 10$

80 000

800

8 000

8

80

Nu se completează de către elev
COD

6.

7. Prețul unui atlas este 351 lei.


Scrie X în căsuța din dreptul sumei care ți-ar ajunge pentru a-l cumpăra.

- 300 lei
 350 lei
 400 lei
 310 lei

Nu se completează de către elev
COD

7.

8. La un concurs Marius, Claudia, Dana și Ene au obținut punctajele reprezentate în graficul de mai jos.



Scrie în căsuță A (dacă afirmația este adevărată) sau F (dacă afirmația este falsă).

- A. Ene s-a clasat pe locul al III-lea.
B. Claudia a obținut cel mai mare punctaj.
C. Marius a obținut mai puține puncte decât Dana.
D. Dana a obținut cel mai mic punctaj.
E. Marius s-a clasat pe locul al II-lea.

Nu se completează de către elev
COD

8.

9. Se dă numărul 1 595.

Încercuiește litera corespunzătoare scrierii cu cifre romane a acestui număr.

A. MDXD

B. MDCXV

C. MDXCV

D. MCDXV

Nu se completează de către elev
COD

9.

10.

Încercuiește numerele la care câtușul dintre cifra sutelor și cea a zecilor este egal cu cifra unităților.

452 822

7 933

13 842

9 414

28 303

661

Nu se completează de către elev
COD

10.

11. În careul de mai jos, fiecare rând și fiecare coloană trebuie să conțină o singură dată cifrele impare.

Completează căsuțele cu cifrele lipsă.

	3	5	7	9
3	5			
5		9	1	3
7	9	1	3	
9	1	3	5	7

Nu se completează de către
COD

11.

12.

Încercuiește litera corespunzătoare citirii corecte a numărului 13 013.

- A. treisprezece mii o sută treizeci
 B. treisprezece mii o sută trei
 C. treisprezece mii treisprezece
 D. trei mii o sută trei

Nu se completează de către elev
 COD

12.

13. Mă gândesc la un număr, îl adun cu 46 892 și obțin 900 000.
 La ce număr m-am gândit?

Calculează pe spațiul de mai jos.

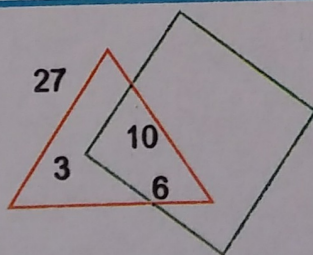
R: _____

Nu se completează de către elev
 COD

13.

14.

Calculează, pe spațiul de mai jos, produsul numerelor din interiorul triunghiului și câtul numerelor din exteriorul pătratului.



Produsul:

Câtul:

Nu se completează de către elev
 COD

14.

15.

Încercuiește litera din dreptul fracției corespunzătoare părții hașurate din desen.

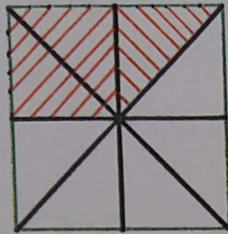


A. $\frac{3}{6}$

B. $\frac{6}{3}$

C. $\frac{3}{8}$

D. $\frac{5}{8}$




Nu se completează de către ei
COD

15.

16.

Scrie denumirea corpului geometric din desenul de mai jos.



Răspuns: _____

Nu se completează de către
COD

16.

17.

Câte decenii a trăit tatăl până acum, dacă anul viitor împlinește 40 ani?

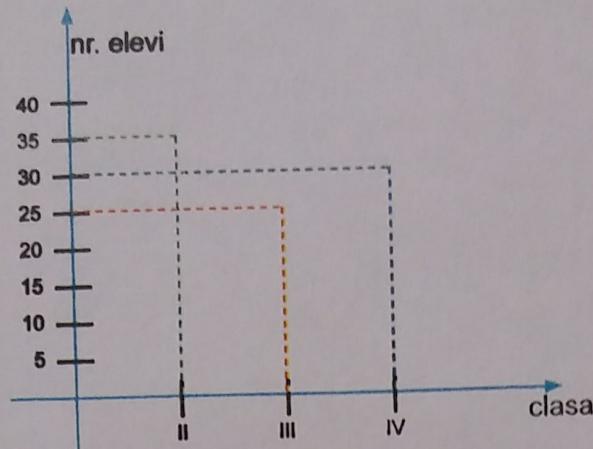


Răspuns: _____

Nu se completează de către
COD

17.

18. La un concurs de matematică au participat elevi din clasele a II-a, a III-a și a IV-a. Numărul lor este reprezentat în graficul de mai jos.



Scrie câți elevi din clasa a IV-a au participat la concurs.



R: _____

Nu se completează de către elev
COD

18.

19. Maria parcurge drumul de acasă până la școală în 20 minute. La ce oră ajunge la școală dacă pleacă de acasă la ora 7 și 30 minute?

Încercuiește litera corespunzătoare răspunsului corect.



- A. ora 7 și 40 minute
- B. ora 7 și 45 minute
- C. ora 7 și 50 minute
- D. ora 7 și 55 minute

Nu se completează de către elev
COD

19.

20. Laura are 21 ani, adică jumătate din vârsta mamei. Câți ani are mama Laurei?

Încercuiește litera corespunzătoare răspunsului corect.



A. 42 ani

B. 36 ani

C. 32 ani

D. 63 ani

Nu se completează de către elev
COD

20.

21. Care este perimetrul unui pătrat, dacă lungimea laturii este egală cu 150 m?

Încercuiește litera corespunzătoare răspunsului corect.



A. 300 m

B. 600 m

C. 450m

D. 500 m

Nu se completează de către elev
COD

21.

**FELICITĂRI, AI AJUNS LA SFÂRȘITUL TESTULUI!
MULȚUMIM PENTRU PARTICIPARE!**